

理科（6年生）No.1

ものが燃えるとき

名前

1 ()の中に言葉を入れましょう。

ビンの中でろうそくを燃やしました。

- ① ふたをしてしばらくすると、ろうそくの火はどうなりますか。
()
- ② とじこめられたビンの中では、火はどうなりますか。
()
- ③ものが燃え続けるには、常に何かが入れかわる必要があります。
何が入れかわればよいのですか。
()


2 空気の成分です。数字を入れましょう。

ちっ素	酸素
約 %	約 %

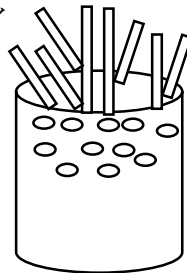
二酸化炭素など

3 ①かんの中に木切れを入れて、イとウには、あなをあけました。
ア～ウのうちで、一番よく燃えたのはどれですか。()


ア



イ



ウ



②その理由として正しいものを1つ選びましょう。

- エ かんにあながないから。
- オ 空気の入るあなが下の方にあるとよく燃えるから。
- カ 空気の入るあなが上の方にあるとよく燃えるから。()