



川越行マスケットキャラクター ときも

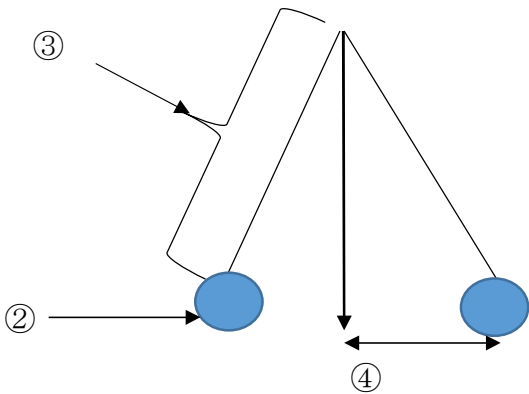
理科（5年生）No.7

ふりこのきまり

名前

1 () にあてはまる言葉を入れましょう。

① 下の図のように、棒やひもにおもりをつけて左右にふれるようにしたものを何といいますか。 (ふりこ)

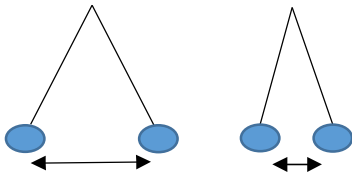


② (おもり)

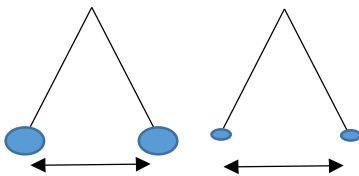
③ (ふりこの長さ)

④ (ふれはば)

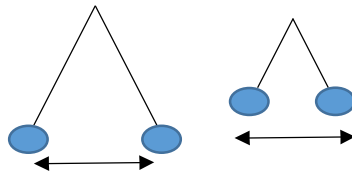
2 ふりこが1往復する時間はどうなりますか。



① ふれはばがちがう。(変わらない)



② おもりの重さがちがう。(変わらない)



③ ふりこの長さがちがう。(変わる)

3 次の中からふりこの性質を利用しているものを選び、記号で答えましょう

- ① 砂時計
- ② メトロノーム
- ③ カスタネット
- ④ 柱時計
- ⑤ ブランコ

(②、④、⑤)