



川越行マスコットキャラクター トキモ

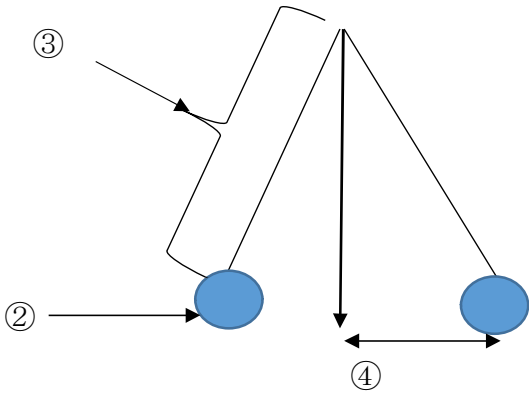
理科（5年生）No.7

ふりこのきまり

名前

1 () にあてはまる言葉を入れましょう。

① 下の図のように、棒やひもにおもりをつけて左右にふれるようにしたものを何といいますか。 ()

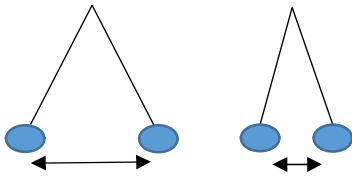


② ()

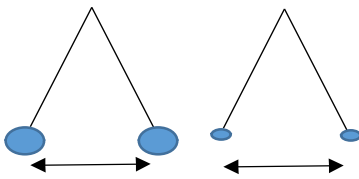
③ ()

④ ()

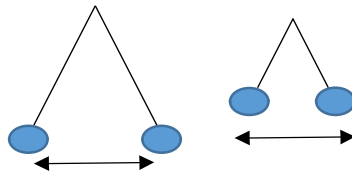
2 ふりがが1往復する時間はどうなりますか。



①ふれはばがちがう。()



②おもりの重さがちがう。()



③ふりこの長さがちがう。()

3 次の中からふりこの性質を利用しているものを選び、記号で答えましょう

- ① 砂時計
- ② メトロノーム
- ③ カスタネット
- ④ 柱時計
- ⑤ ブランコ

()