



# できるかな？

5-1 (H23~)

年 組 番
名前

1 次の数を求められるかな。〔10倍・100倍,  $\frac{1}{10}$ ・ $\frac{1}{100}$ にした数〕

① 3.4の10倍

( )

② 3.4の100倍

( )

③ 12.7を $\frac{1}{10}$ にした数

( )

④ 12.7を $\frac{1}{100}$ にした数

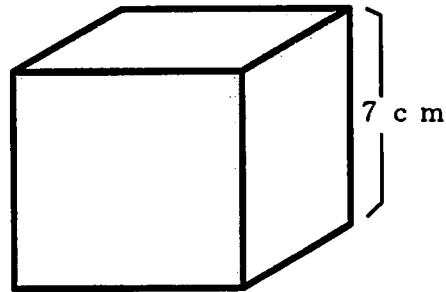
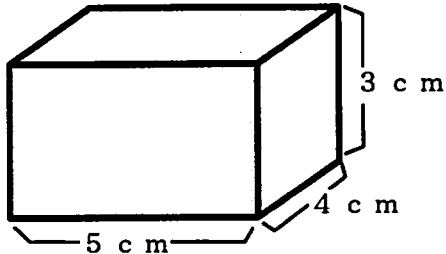
( )

4問のうち  
問  
できた!!

2 次の図形の体積を求めることができるかな。〔直方体・立方体の体積〕

①直方体

②立方体



2問のうち  
問  
できた!!

3 次の小数のかけ算ができるかな。〔かける数が小数〕

①  $3 \times 1.4$

②  $0.9 \times 0.6$

③  $2.3 \times 2.8$

④  $9.3 \times 0.4$

4問のうち  
問  
できた!!



# できるかな？

5-2 (H23~)

年 組 番

名前

① 次の数を求められるかな。[10倍・100倍,  $\frac{1}{10}$ ・ $\frac{1}{100}$ にした数]

① 3.4の10倍

( )

② 12.7を $\frac{1}{10}$ にした数

( )

2問のうち  
問  
できた!!

② 次の小数のかけ算ができるかな。[かける数が小数]

①  $3 \times 1.4$

②  $0.9 \times 0.6$

③  $2.3 \times 2.8$

3問のうち  
問  
できた!!

③ 次の小数のわり算ができるかな。[わる数が小数]

①  $200 \div 2.5$

⑤  $3.9 \div 1.3$

⑥  $4.8 \div 3.2$

④  $37.4 \div 8.5$

⑤  $6 \div 2.4$

⑥  $1.4 \div 5.6$

6問のうち  
問  
できた!!



できるかな？

年 組 番

名前

5 - 4 (H23~)

1 次の小数の計算ができるかな。〔小数の乗法・除法〕

- ①  $9.3 \times 0.4$       ②  $200 \div 2.5$       ③  $37.4 \div 8.5$

3問のうち  
問  
できた!!

2 次の  の中にはどんな数が入るかな。〔分数と整数・小数の関係〕

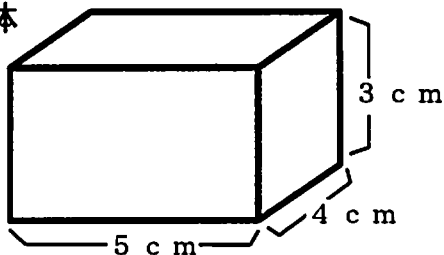
- ①  $2 \div 5$  を分数で表すと  $\frac{\text{□}}{\text{□}}$  , 小数で表すと  です。

- ②  $0.57$  を分数になおすと  $\frac{\text{□}}{\text{□}}$  です。      ③  $\frac{3}{3} = \text{□}$

4問のうち  
問  
できた!!

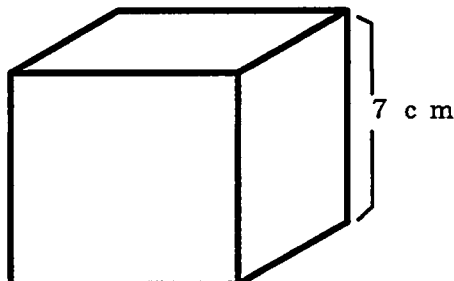
3 次の図形の体積を求めることができるかな。〔直方体・立方体の体積〕

①直方体



2問のうち  
問  
できた!!

②立方体





# できるかな？

5-3 (H23~)

年 組 番

名前

**1** 次の問題ができるかな。〔倍数と約数〕

① 次の数のうち、6の倍数はどれですか。ぜんぶに○をつけましょう。

6      16      21      42      49      72      80

② 3と4の公倍数を、小さいほうから順に3つ書きましょう。

答え \_\_\_\_\_

③ 6と8の最小公倍数はいくつですか。

答え \_\_\_\_\_

④ 18の約数を、ぜんぶ書きましょう。

答え \_\_\_\_\_

⑤ 24と36の公約数を、ぜんぶ書きましょう。

答え \_\_\_\_\_

⑥ 28と42の最大公約数はいくつですか。

答え \_\_\_\_\_

6問のうち  
問  
できた!



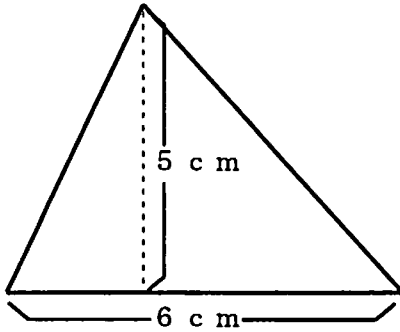
# できるかな？

年 組 番

名前

5-5 (H23~)

- 1 三角形の面積を求めることができるかな。〔三角形の面積〕  
底辺が6 cm、高さが5 cmの三角形の面積を求めましょう。



式：

答え \_\_\_\_\_

1問のうち  
問  
できた!!

- 2 次の分数の計算ができるかな。〔異分母分数の加減計算〕

①  $\frac{1}{2} + \frac{2}{5}$

②  $\frac{2}{3} - \frac{1}{4}$

③  $\frac{3}{4} + \frac{5}{6}$

④  $\frac{5}{6} - \frac{1}{8}$

4問のうち  
問  
できた!!

- 3 次の分数の計算ができるかな。〔乗数・除数が整数〕

①  $\frac{3}{7} \times 2$

②  $\frac{3}{10} \times 8$

③  $\frac{1}{4} \div 3$

④  $\frac{15}{13} \div 10$

4問のうち  
問  
できた!!